

Nom \_\_\_\_\_  
 Prénom \_\_\_\_\_  
 Date \_\_\_\_\_



1- Range ces durées de la plus courte à la plus longue.

2 j      25h      46h      1 j      90min  
 ..... < ..... < ..... < ..... < .....

2- Complète.

**Dans 1 heure, il y a 60 minutes.**

Combien y a-t-il de minutes dans 2 heures?

.....

Combien y a-t-il de minutes dans 3 heures?

.....

Combien y a-t-il de minutes dans 10 heures?

.....

**Dans 1 jour, il y a 24 heures.**

Combien y a-t-il d'heures dans 2 jours?

.....

Combien y a-t-il d'heures dans 3 jours?

.....

Combien y a-t-il d'heures dans 10 jours?

.....

3- Résous les problèmes.

Tom est parti de chez lui à 8h30.  
 Il rentre à 12h30.

**Combien de temps Tom est-il parti?**


.....

Lilou a un entrainement de foot  
 de 14h00 à 16h00.


**Combien de temps dure l'entrainement?**

.....

4- Trouve combien de temps chaque personne a dormi.




Heure  
 du coucher  
**21h00**




Heure  
 du lever  
**7h00**

Noa a dormi  
 pendant  
 ..... heures.



Heure  
 du coucher  
**23h00**



Heure  
 du lever  
**8h30**

Madame Lima  
 a dormi pendant  
 ..... heures  
 et ..... minutes.