

Nom _____
 Prénom _____
 Date _____

1 - Entoure la durée la plus courte dans chaque cadre.

55 min 1 h

1 h 70 min

99 min 1 h

125 min 2 h

20 min 2 h

1 h 90 min

2 - Complète avec l'unité qui convient: min, h ou j.

J'ai mis 5 pour réaliser cet exercice.

Je suis resté 2 à la piscine.


Je suis partie 7 en vacances dans les Alpes.

Un match de football dure 90

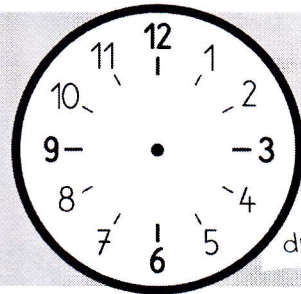
3 - Les horaires indiquent le début et la fin d'un film.

Dessine les aiguilles qui manquent sur l'horloge.

début
du film




Le film dure
1 h 30 min




fin
du film

début
du film



Le film dure
2 h



fin
du film